



40

المادة: التكنولوجيا والحاسوب المدرسة:
الدرجة:
الفترة: الصباحية اسم الطالب/ة:
الشعبة:

[20 درجة]

أولاً: التكنولوجيا

(10 علامات)

السؤال الأول: اختر الإجابة الصحيحة:

1. المصائد الكهربائية من طرق المكافحة:			
أ. الكيميائية	ب. الحيوية	ج. الفيزيائية	د. اليدوية
2. يراعى عند تركيب الأعلاف:			
أ. عدد الحيوانات	ب. عمر الحيوان	ج. وسيلة النقل	د. طول الحيوان
3. جميع العوامل التالية يجب توافرها في منشآت تربية الحيوانات (الحظائر) ما عدا:			
أ. الرطوبة العالية	ب. ضوء الشمس	ج. الحماية من الحيوانات المفترسة	د. التهوية الجيدة
4. مادة تعمل على تماسك مكونات الخرسانة:			
أ. الطوب	ب. الاسمنت	ج. الألمونيوم	د. الحصمة
5. من المواد التي تستخدم في عملية بناء الحوائط:			
أ. الحجر	ب. البلاستيك	ج. الجلد	د. القماش
6. أي المواد التالية أكثر تحملاً للقوى في البناء؟			
أ. الطين	ب. الجبس	ج. الخشب	د. الخرسانة المسلحة
7. المهندس المسئول عن تصميم وإعداد مخطط الأساسات هو المهندس:			
أ. المعماري	ب. الميكانيكي	ج. المدني	د. الكهربائي
8. واحدة مما يلي تعتبر من مراحل إنشاء الهيكل الخارجي للبيت:			
أ. حفر الأساسات	ب. القصارة	ج. تبييط الأرضيات	د. الدهان
9. كل ما يلي تؤثر في اختيار مادة البناء ما عدا:			
أ. العوامل الجوية	ب. التربة	ج. عدد الطوابق	د. الأيدي العاملة
10. بعد عمل التمديدات الكهربائية والصحية مباشرة تأتي عملية:			
أ. التبييط	ب. القصارة	ج. الدهان	د. الديكور

السؤال الثاني: وفق بين العمود (أ) والعمود (ب): (3 علامات)

العمود (أ)	العمود (ب)
1 البيوت الزراعية	() يتم بوضع طاولة خشبية ضخمة تحتها جذوع الأشجار وتجربها الحيوانات
2 النقل الأفقي قديماً	() بناء الهيكل الخارجي للبيت
3 مرحلة العظم	() هياكل معدنية مغطاة بالشبك والبلاستيك وتحمي النباتات

السؤال الثالث: اذكر السبب: (3 علامات)

1- عند تربية الخراف يعاني المزارعون من فقدان جزء من الأعلاف.

.....

2- يجب إعداد التصاميم والمخططات لأي بناء قبل المباشرة في تنفيذ المبنى.

.....

3- عملية البناء قديماً تحتاج لفترة زمنية طويلة.



.....

السؤال الرابع: (4 علامات)

أ. قارن بين كلاً من: (علامتان)

وجه المقارنة	إطعام الحيوانات	أجرة العمال
تكلفة الانتاج الحيواني		
وجه المقارنة	جدران الحجر	جدران الطين
مقاومة العوامل الجوية		

ب. اكتب مدلول كلاً من: (علامتان)

	
اسم الأداة:.....	اسم الأداة:.....
استخدامها:.....	استخدامها:.....

السؤال الأول: ضع/ي دائرة حول رمز الإجابة الصحيحة: (5 درجات)

1) يمكن فتح النافذة عن طريق بزر الفأرة الأيسر.		
أ) النقر المفرد	ب) النقر المزدوج	ج) السحب والإفلات
2) لإغلاق النافذة نهائياً اضغط على زر:		
أ) 	ب) 	ج) 
3) من مميزات برنامج الرسام:		
أ) إضافة صوت للرسم	ب) إنتاج رسومات معقدة	ج) تكرار جزء من الرسم
4) نافذة تحتوي مجموعة من الأيقونات تمثل أدوات الرسم:		
أ) شريط الأدوات	ب) شريط العنوان	ج) شريط التفاصيل
5) تعتبر أداة المكبر  من مجموعة الأدوات :		
أ) الرسم الحر	ب) رسم الأشكال المنتظمة	ج) المساعدة في الرسم

السؤال الثاني: أكمل/ي الفراغات بالكلمة المناسبة مما بين القوسين: (5 درجات)

(جوجل - اللون الأمامي- الشبكة العنكبوتية - التعليم- شريط التفاصيل - اللون الخلفي)





- 1) شريط يستخدم لمعرفة الخصائص الأكثر شيوعاً للملف المحدد.
- 2) هو اللون الذي تستخدمه معظم أدوات الرسم، ويتم اختياره بزر الفأرة الأيسر.
- 3) تعتبر مجموعة من شبكات الحواسيب المرتبطة مع بعضها البعض حول العالم.
- 4) من مجالات استخدام الإنترنت.....
- 5) يعتبر من محركات البحث.

السؤال الثالث: ضع/ي علامة (✓) أمام العبارة الصحيحة وعلامة (×) أمام العبارة غير الصحيحة: (4 درجات)

- 1) () تعرض النوافذ محتويات الملفات كملفات النصوص والصور والمجلدات.
- 2) () الخطوة الثانية من خطوات طباعة الرسم هي التحضير للطباعة.
- 3) () من التصرفات المقبولة انتحال أسماء الشخصيات المشهورة في مواقع التواصل الاجتماعي.
- 4) () شريط القوائم يحتوي على كلمات عند النقر عليها تنسدل قائمة لأسفل.

(4 درجات)

السؤال الرابع: وفق/ي بين العمود (أ) و العمود (ب):

العمود (ب)		العمود (أ)	
	()	1	أداة المضع.
	()	2	خدمة البريد الإلكتروني.
	()	3	أداة الفرشاة.
	()	4	حفظ الرسم.

(درجة واحدة)

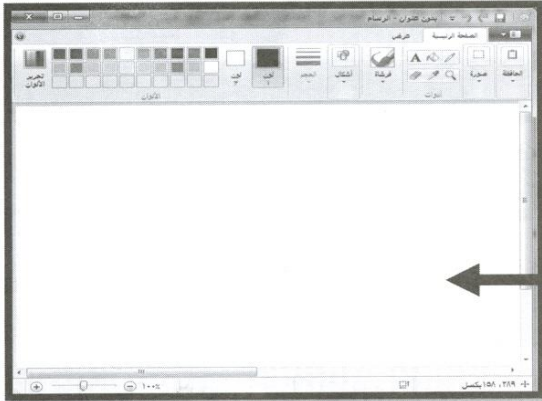
السؤال الخامس: فسر/ي:

1) عند استخدام أداة المحاة أصبح اللون الممسوح لونه أحمر .

السبب/

(درجة واحدة)

السؤال السادس: أكمل/ي بحسب المطلوب:



أ) الشكل المقابل يمثل واجهة برنامج

.....

ب) السهم المبين يشير إلى

انتهت الأسئلة

تمنياتنا للجميع بالنجاح والتفوق