

Usługi

.....
Imię i nazwisko

.....
Klasa

Poniższy test składa się z 13 zadań. Przy każdym poleceniu podano liczbę punktów możliwą do uzyskania za prawidłową odpowiedź. Za rozwiązanie całego testu możesz otrzymać maksymalnie 36 punktów.

1. Wyjaśnij znaczenie terminu „łączność”. **0–1 p.**

.....
.....
.....

2. Podaj przykłady czterech usług osobistych. **0–2 p.**

•
•
•
•

3. Zaznacz prawidłowe dokończenie zdania. **0–1 p.**

- Liczba abonentów telefonów komórkowych w Polsce...
a) systematycznie, lecz powoli rośnie.
b) w pierwszych latach XXI w. gwałtownie wzrosła.
c) utrzymuje się na stałym poziomie (ok. 10 mln abonentów).
d) gwałtownie spada.

4. Wymień cztery cechy charakteryzujące transport kolejowy w Polsce. **0–2 p.**

•
•
•
•

5. Podkreśl prawidłowe informacje w poniższych zdaniach. **0–4 p.**

- a) Największe znaczenie w Polsce ma transport *lotniczy / kolejowy / samochodowy*.
b) Największa gęstość sieci linii kolejowych jest w województwie *mazowieckim / śląskim / podkarpackim*.
c) Najmniejsza gęstość sieci dróg kołowych jest w województwie *małopolskim / podlaskim / kujawsko-pomorskim*.
d) Gaz ziemny przez teren Polski transportuje *gazociąg jamalski / Północny / „Przyjaźń”*.

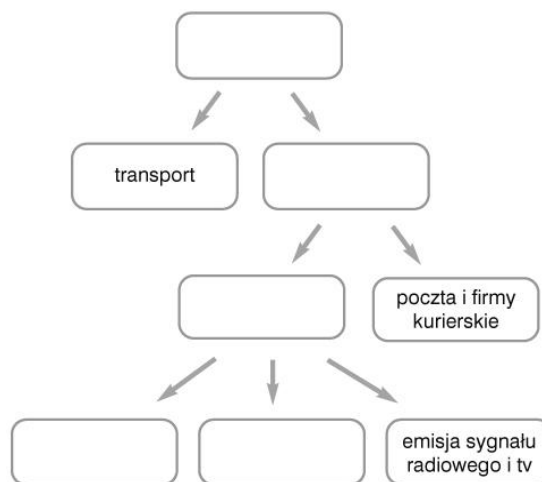
6. Podpisz na poniższej mapie konturowej odpowiednimi literami i cyframi wymienione niżej porty. **0–6 p.**

Porty lotnicze:
A. Gdańsk B. Rzeszów
C. Zielona Góra D. Katowice

Porty morskie:
1. Świnoujście 2. Gdynia



7. Uzupełnij schemat dotyczący komunikacji w Polsce właściwymi informacjami. **0–3 p.**



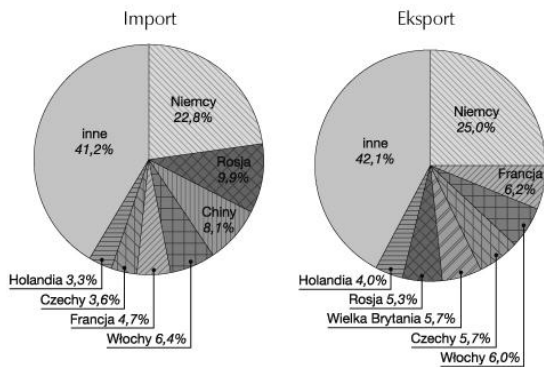
8. Podkreśl podpunkt, w którym podano prawidłową lokalizację portu lotniczego. **0-1 p.**

- a) Szczecin-Strachowice.
- b) Bydgoszcz-Rębiechowo.
- c) Kraków-Balice.
- d) Poznań-Okęcie.

9. Podkreśl nazwy artykułów, które eksportuje Polska. **0-2 p.**

drewno, gaz ziemny, owoce cytrusowe, produkty przemysłu high-tech, silniki spalinowe, szkło

10. Na podstawie wykresów przedstawiających głównych partnerów handlowych Polski w 2008 roku uzupełnij zdania. **0-5 p.**



a) Główny partner handlowy Polski w imporcie to

b) W 2008 roku wartość polskiego eksportu wyniosła około 170 mld USD. Udział Włoch w polskim eksporcie osiągnął%, czyli mld USD.

c) Kraje członkowskie Unii Europejskiej, z których Polska importuje towary, to m.in. i

11. Wymień dwa duże ośrodki turystyczne w Karpatach. **0-1 p.**

-
-

12. Wymień po dwa walory przyrodnicze i pozaprzyrodnicze pojezierzy. **0-4 p.**

Walory przyrodnicze:

-
-

Walory pozaprzyrodnicze:

-
-

13. Na mapie zaznaczono obiekty wpisane na Listę światowego dziedzictwa kulturalnego i przyrodniczego UNESCO. Wpisz nazwy obiektów obok cyfr, którymi oznaczono je na mapie. **0-4 p.**

- 1 -
- 2 -
- 3 -
- 4 -



Usługi

.....
Imię i nazwisko

.....
Klasa

Poniższy test składa się z 13 zadań. Przy każdym poleceniu podano liczbę punktów możliwą do uzyskania za prawidłową odpowiedź. Za rozwiązanie całego testu możesz otrzymać maksymalnie 36 punktów.

1. Wyjaśnij znaczenie terminu „transport”. 0–1 p.

.....
.....
.....

2. Podaj przykłady czterech usług rzeczowych. 0–2 p.

•
•
•
•

3. Zaznacz prawidłowe dokończenie zdania. 0–1 p.

Liczba abonentów telefonów stacjonarnych w Polsce...

- a) w pierwszych latach XXI w. gwałtownie wzrosła.
b) utrzymuje się na prawie stałym poziomie (ok. 10 mln abonentów).
c) gwałtownie spada.
d) systematycznie rośnie.

4. Wymień cztery cechy charakteryzujące transport samochodowy w Polsce. 0–2 p.

•
•
•
•

5. Podkreśl prawidłowe informacje w poniższych zdaniach. 0–4 p.

- a) Gęstość sieci linii kolejowych na 100 km² powierzchni wynosi w Polsce 6,5 km / 33 km / 65 km.
b) Najmniejsza gęstość sieci linii kolejowych jest w województwie wielkopolskim / opolskim / podlaskim.
c) Największa gęstość dróg jest w województwie śląskim / lubuskim / świętokrzyskim.
d) Najwięcej ładunków przewozi transport kolejowy / samochodowy / rurociągowy.

6. Podpisz na poniższej mapie konturowej odpowiednimi literami i cyframi wymienione niżej porty. 0–6 p.

Porty lotnicze:

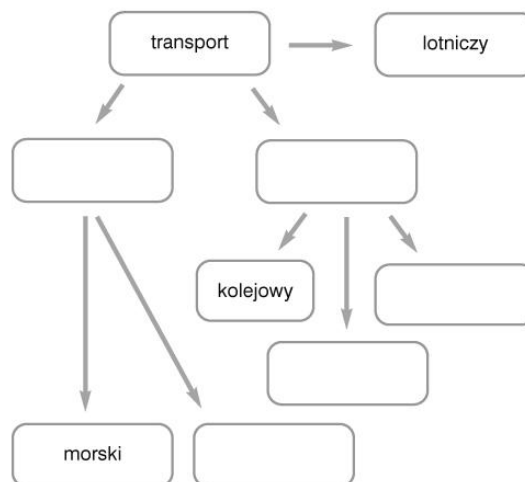
- A. Poznań B. Kraków
C. Łódź D. Wrocław

Porty morskie:

1. Gdynia 2. Szczecin



7. Uzupełnij schemat dotyczący transportu w Polsce właściwymi informacjami. 0–3 p.



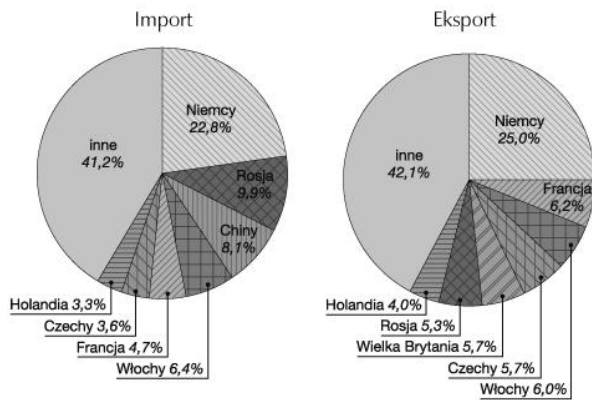
8. Podkreśl podpunkt, w którym podano prawidłową lokalizację portu lotniczego. **0-1 p.**

- a) Gdańsk-Goleniów.
- b) Katowice-Pyrzowice.
- c) Bydgoszcz-Jasionka.
- d) Rzeszów-Ławica.

9. Podkreśl nazwy artykułów, które importuje Polska. **0-2 p.**

*leki, meble, mięso, papier,
produkty przemysłu high-tech,
ropa naftowa*

10. Na podstawie wykresów przedstawiających głównych partnerów handlowych Polski w 2008 roku uzupełnij zdania. **0-5 p.**



a) W 2008 roku wartość polskiego importu wyniosła około 210 mld USD. Udział Rosji w polskim imporcie osiągnął, czyli mld USD.

b) Kraj, który ma największy udział w eksporcie Polski to

c) Sąsiedzi Polski, do których eksportujemy towary, to m.in. i

11. Wymień dwa duże ośrodki turystyczne w Sudetach. **0-1 p.**

-
-

12. Wymień po dwa walory przyrodnicze i pozaprzyrodnicze pobrażę. **0-4 p.**

Walory przyrodnicze:

-
-

Walory pozaprzyrodnicze:

-
-

13. Na mapie zaznaczono obiekty wpisane na Listę światowego dziedzictwa kulturalnego i przyrodniczego UNESCO. Wpisz nazwy obiektów obok cyfr, którymi oznaczono je na mapie. **0-4 p.**

- 1 -
- 2 -
- 3 -
- 4 -

