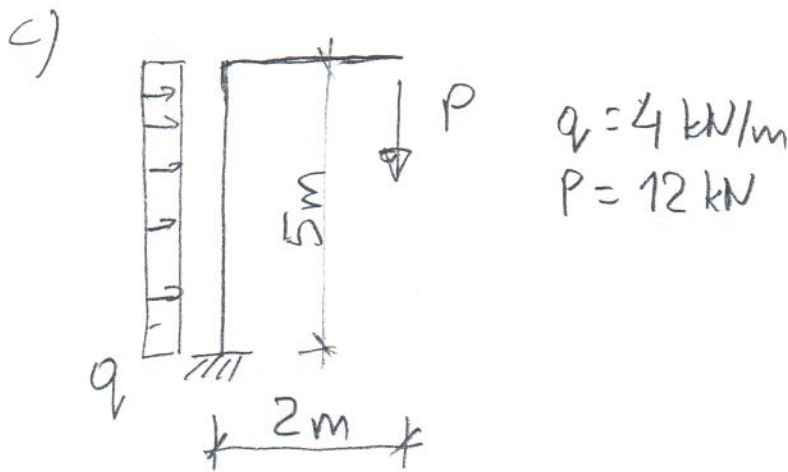
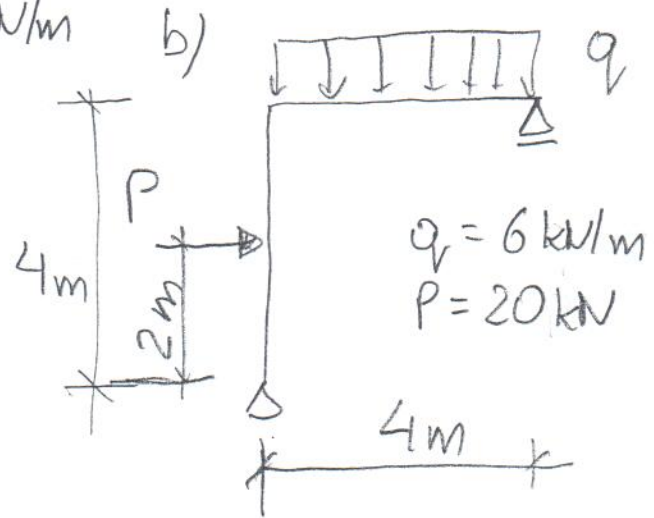
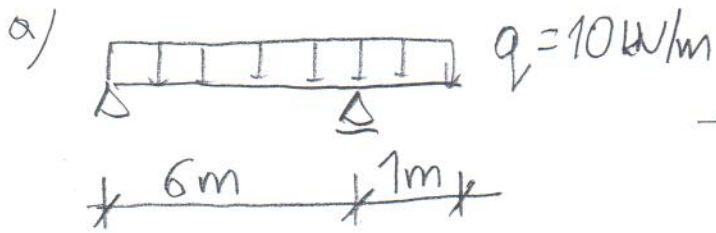


1. Sporządzić wykresy sił przekrojowych



2. Dla schematu konstrukcyjnego pokazanego na rysunku i przekroju pręta obliczyć:

a - siły przekrojowe

b - charakterystyki geometryczne przekroju:

$A, J_y, W_y, i_y, J_z, W_z, i_z.$

c - Napięcia σ_x w przekroju C belki w punktach P1 i P2

